

氏名 \_\_\_\_\_

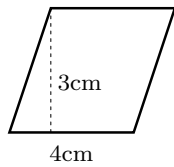
平行四辺形の面積



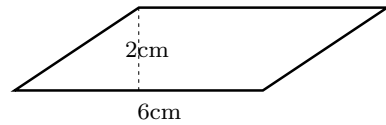
平行四辺形の面積 = 底辺 × 高さ

1 次の平行四辺形の面積を求めなさい。

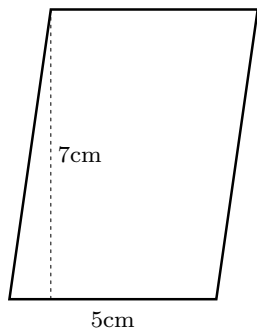
(1)



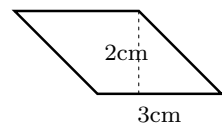
(2)



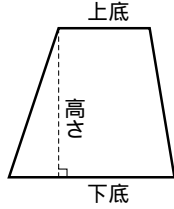
(3)



(4)



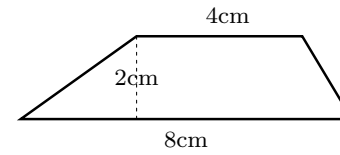
台形の面積



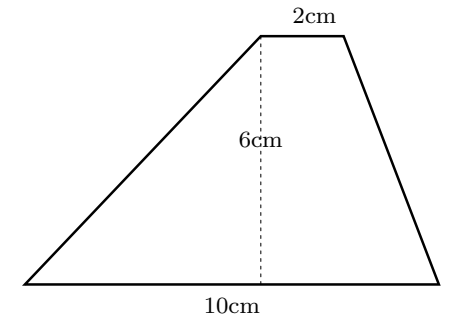
台形の面積 = (上底 + 下底) × 高さ ÷ 2

2 次の台形の面積を求めなさい。

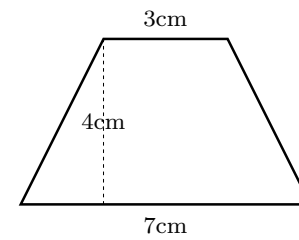
(1)



(2)



(3)



(4)

