



氏名 \_\_\_\_\_


1 次の時計の時刻を答えなさい。




時  分




時  分




時  分



時  分

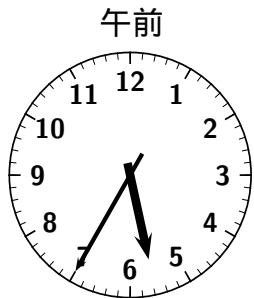
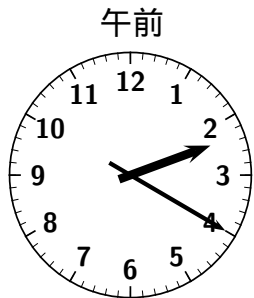


時  分

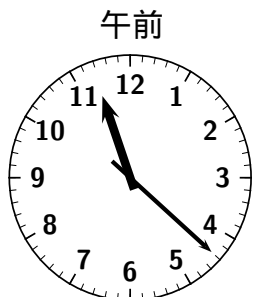
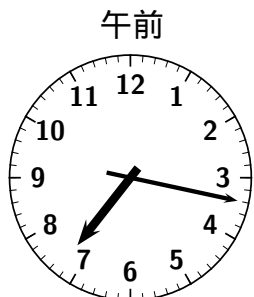


時  分

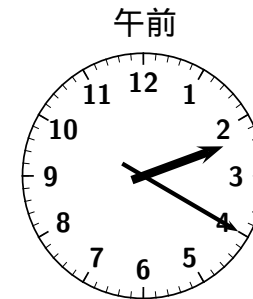

2 左の時刻から何時間何分経つと右の時刻になりますか。



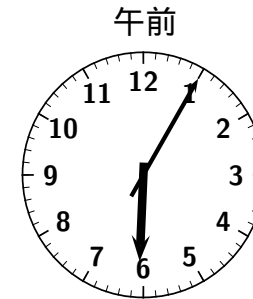

時間  分



時間  分



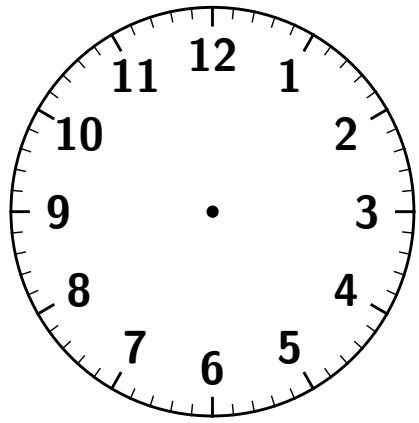
時間  分



時間  分

3 次の問いに答えなさい（分たった時刻は？）。

- (1) 午前 8:00 から 20 分たつと、午前  時  分になります。
- (2) 午前 10:20 から 30 分たつと、午前  時  分になります。
- (3) 午前 4:10 から 33 分たつと、午前  時  分になります。
- (4) 午前 1:30 から 50 分たつと、午前  時  分になります。
- (5) 午前 4:45 から 35 分たつと、午前  時  分になります。
- (6) 午前 7:50 から 27 分たつと、午前  時  分になります。
- (7) 午前 3:35 から 1 時間 20 分たつと、午前  時  分になります。
- (8) 午前 9:55 から 1 時間 30 分たつと、午前  時  分になります。
- (9) 午前 5:08 から 1 時間 27 分たつと、午前  時  分になります。



4 次の問いに答えなさい( 分前の時刻は? )。

(1) 午前 2:50 の 20 分前は, 午前  時  分です。

(2) 午前 6:25 の 15 分前は, 午前  時  分です。

(3) 午前 7:47 の 35 分前は, 午前  時  分です。

(4) 午前 2:15 の 50 分前は, 午前  時  分です。

(5) 午前 8:40 の 55 分前は, 午前  時  分です。

(6) 午前 10:23 の 49 分前は, 午前  時  分です。

(7) 午前 5:20 の 1 時間 25 分前は, 午前  時  分です。

(8) 午前 9:20 の 1 時間 35 分前は, 午前  時  分です。

(9) 午前 7:55 の 1 時間 15 分前は, 午前  時  分です。