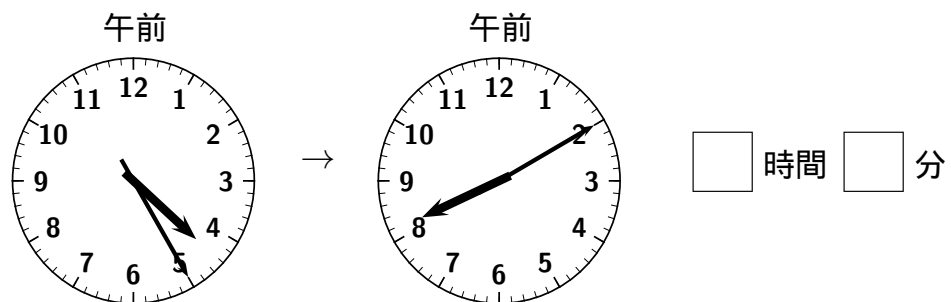
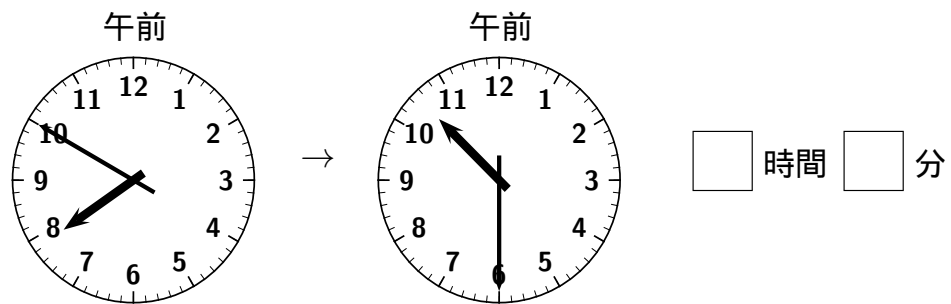
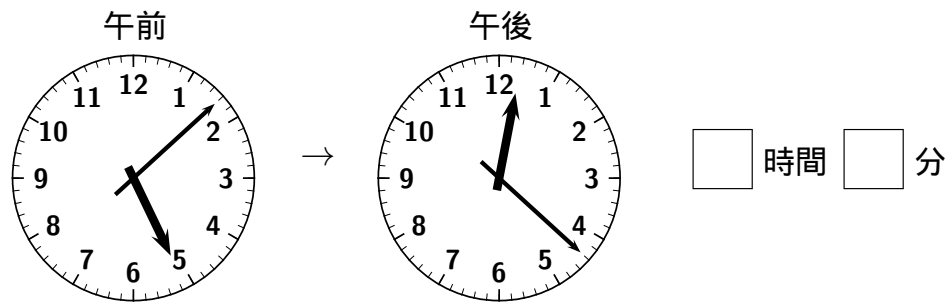
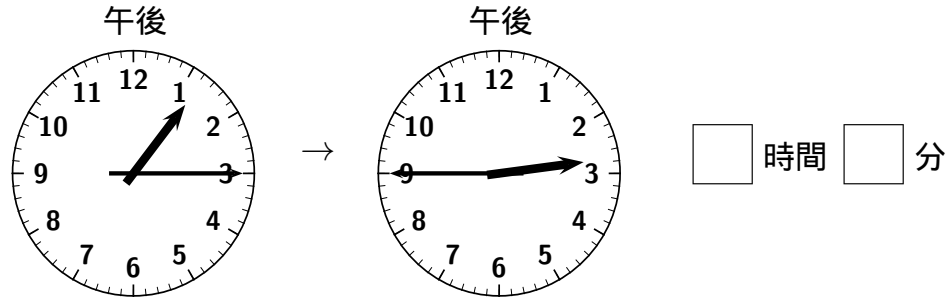


氏名 _____

1 左の時刻から何時間何分経つと右の時刻になりますか。



2 次の問いに答えなさい（分たった時刻は？）

- (1) 午前 6:15 から 25 分たつと、午前 □ 時 □ 分になります。
- (2) 午前 7:05 から 37 分たつと、午前 □ 時 □ 分になります。
- (3) 午後 11:24 から 28 分たつと、午後 □ 時 □ 分になります。
- (4) 午前 3:35 から 45 分たつと、午前 □ 時 □ 分になります。
- (5) 午前 9:47 から 28 分たつと、午前 □ 時 □ 分になります。
- (6) 午後 8:14 から 57 分たつと、午後 □ 時 □ 分になります。

3 次の問いに答えなさい（分前の時刻は？）

- (1) 午前 6:35 の 25 分前は、午前 □ 時 □ 分です。
- (2) 午後 12:42 の 27 分前は、午後 □ 時 □ 分です。
- (3) 午後 2:44 の 35 分前は、午後 □ 時 □ 分です。
- (4) 午前 3:15 の 40 分前は、午前 □ 時 □ 分です。
- (5) 午前 5:08 の 37 分前は、午前 □ 時 □ 分です。
- (6) 午後 11:21 の 53 分前は、午後 □ 時 □ 分です。