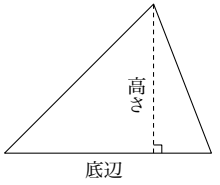


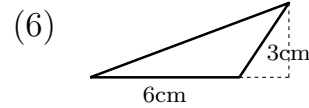
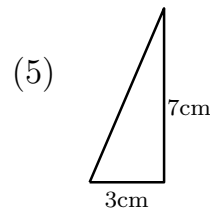
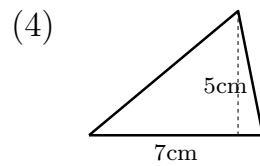
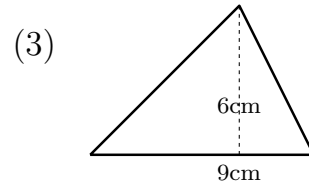
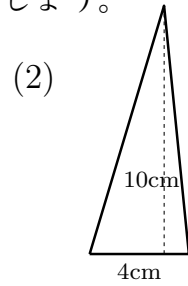
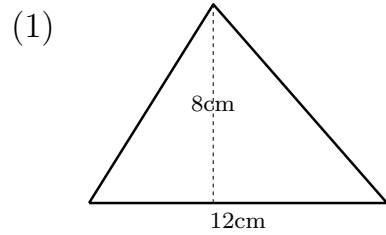
氏名 \_\_\_\_\_

■ 三角形の面積

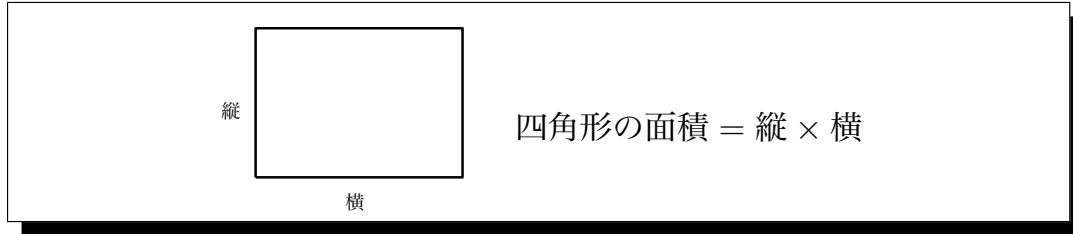


三角形の面積 =  $\frac{1}{2} \times$  底辺  $\times$  高さ

1 次の図形の面積を求めましょう。



■ 四角形の面積



四角形の面積 = 縦  $\times$  横

2 次の図形の面積を求めましょう。

