

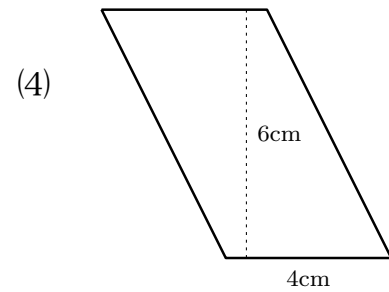
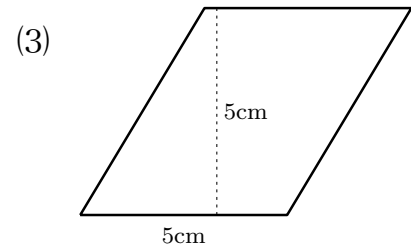
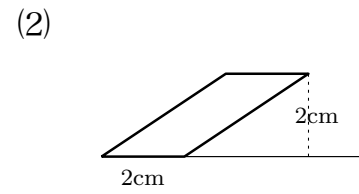
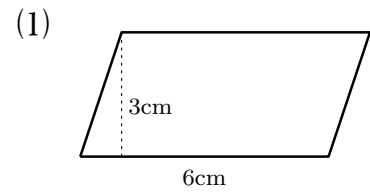
氏名 \_\_\_\_\_

■ 平行四辺形の面積

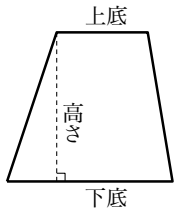


平行四辺形の面積 = 底辺 × 高さ

1 次の平行四辺形の面積を求めなさい。



■ 台形の面積



台形の面積 = (上底 + 下底) × 高さ ÷ 2

2 次の台形の面積を求めなさい。

