



氏名 _____


1 次の時計の時刻を答えなさい。




時 分




時 分




時 分



時 分




時 分



時 分


2 次の時計の時刻を、24 時間表示で答えなさい。

午後




時 分

午後




時 分

午後




時 分

午後




時 分

午後




時 分

午後




時 分

午前




午前




時間 分

午前




午前




時間 分

午前




午後




時間 分

午前



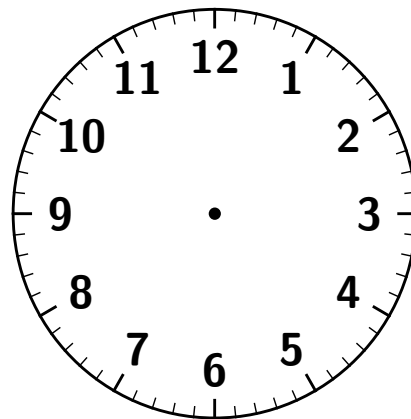
午後



時間 分

4 次の問いに答えなさい(分たった時刻は?)

- (1) 午後 2:15 から 28 分たつと、午後 時 分になります。
- (2) 午後 4:33 から 24 分たつと、午後 時 分になります。
- (3) 午後 7:42 から 17 分たつと、午後 時 分になります。
- (4) 午後 1:50 から 29 分たつと、午後 時 分になります。
- (5) 午後 3:33 から 58 分たつと、午後 時 分になります。
- (6) 午後 6:47 から 2 時間 21 分たつと、午後 時 分になります。



5 次の問いに答えなさい(分前の時刻は?)

- (1) 午前 8:45 の 27 分前は、午前 時 分です。
- (2) 午前 6:24 の 18 分前は、午前 時 分です。
- (3) 午前 10:27 の 44 分前は、午前 時 分です。
- (4) 午前 9:09 の 55 分前は、午前 時 分です。
- (5) 午前 7:13 の 48 分前は、午前 時 分です。
- (6) 午前 5:03 の 3 時間 23 分前は、午前 時 分です。