



氏名


1 次の時計の時刻を答えなさい。




時  分



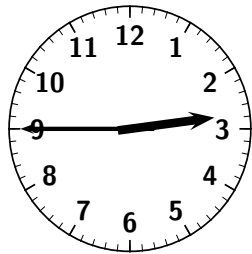
時  分




時  分



時  分


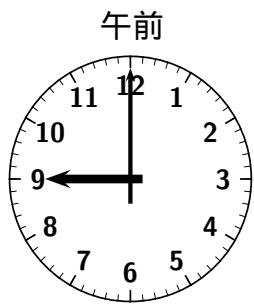


時  分


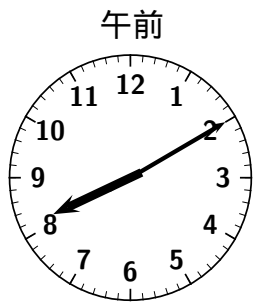


時  分



2 左の時刻から何時間何分経つと右の時刻になりますか。





時間  分



時間  分



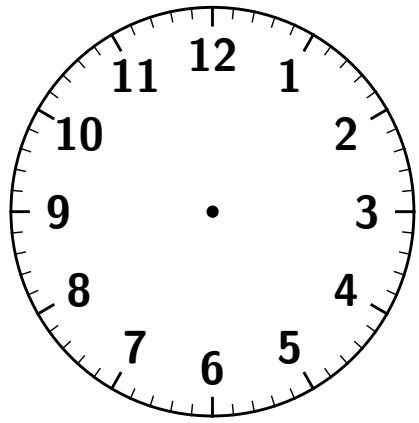
時間  分



時間  分

3 次の問いに答えなさい（分たった時刻は？）。

- (1) 午前 7:00 から 30 分たつと、午前  時  分になります。
- (2) 午前 9:10 から 45 分たつと、午前  時  分になります。
- (3) 午後 5:15 から 22 分たつと、午後  時  分になります。
- (4) 午前 8:40 から 40 分たつと、午前  時  分になります。
- (5) 午前 9:10 から 55 分たつと、午前  時  分になります。
- (6) 午後 2:35 から 37 分たつと、午後  時  分になります。
- (7) 午前 6:10 から 1 時間 15 分たつと、午前  時  分になります。
- (8) 午前 8:25 から 2 時間 10 分たつと、午前  時  分になります。
- (9) 午後 6:55 から 3 時間 41 分たつと、午後  時  分になります。
- (10) 午前 11:20 から 1 時間 10 分たつと、午   時  分になります。
- (11) 午前 10:50 から 2 時間 20 分たつと、午   時  分になります。
- (12) 午前 9:55 から 4 時間 53 分たつと、午   時  分になります。



4 次の問いに答えなさい( 分前の時刻は? )。

- (1) 午前 7:50 の 30 分前は, 午前  時  分です。
- (2) 午前 11:30 の 25 分前は, 午前  時  分です。
- (3) 午後 5:40 の 22 分前は, 午後  時  分です。
- (4) 午前 8:10 の 40 分前は, 午前  時  分です。
- (5) 午前 9:30 の 45 分前は, 午前  時  分です。
- (6) 午後 6:17 の 35 分前は, 午後  時  分です。
- (7) 午前 10:10 の 1 時間 5 分前は, 午前  時  分です。
- (8) 午後 4:30 の 2 時間 15 分前は, 午後  時  分です。
- (9) 午後 9:45 の 3 時間 55 分前は, 午後  時  分です。

5 次の二つの時刻の差は, 何時間何分ですか。

- (1) 午前 9:00 から午前 11:00  
 時間  分
- (2) 午前 6:00 から午前 10:00  
 時間  分
- (3) 午後 1:00 から午後 5:00  
 時間  分
- (4) 午後 3:00 から午後 9:00  
 時間  分
- (5) 午前 8:15 から午前 10:30  
 時間  分
- (6) 午前 9:30 から午前 11:45  
 時間  分
- (7) 午前 6:40 から午前 11:20  
 時間  分
- (8) 午後 2:50 から午後 5:25  
 時間  分
- (9) 午前 7:45 から午後 1:30  
 時間  分
- (10) 午前 10:50 から午後 3:40  
 時間  分