



氏名 \_\_\_\_\_


1 次の時計の時刻を答えなさい。




□ 時 □ 分




□ 時 □ 分




□ 時 □ 分



□ 時 □ 分

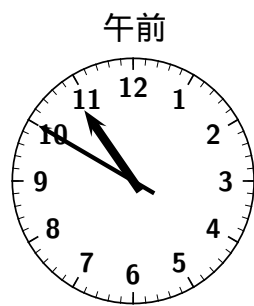
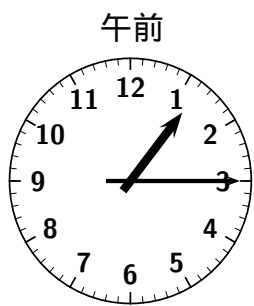


□ 時 □ 分

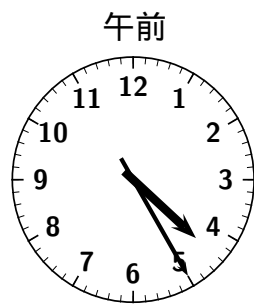
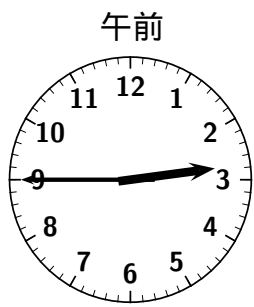


□ 時 □ 分

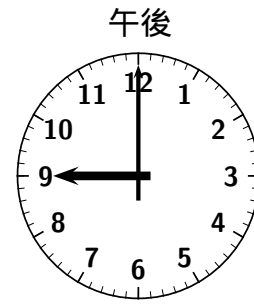

2 左の時刻から何時間何分経つと右の時刻になりますか。





□ 時間 □ 分



□ 時間 □ 分



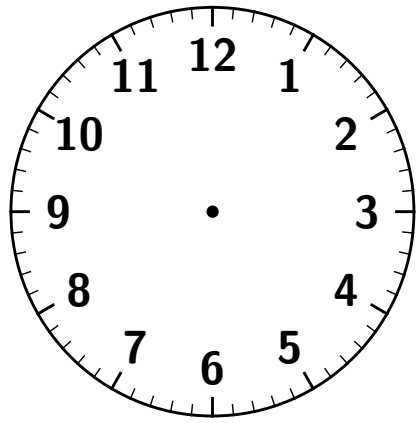
□ 時間 □ 分



□ 時間 □ 分

3 次の問いに答えなさい（分たった時刻は？）。

- (1) 午前 6:00 から 45 分たつと、午前 □ 時 □ 分になります。
- (2) 午前 8:20 から 25 分たつと、午前 □ 時 □ 分になります。
- (3) 午後 9:15 から 34 分たつと、午後 □ 時 □ 分になります。
- (4) 午前 6:50 から 30 分たつと、午前 □ 時 □ 分になります。
- (5) 午前 10:25 から 45 分たつと、午前 □ 時 □ 分になります。
- (6) 午後 5:55 から 41 分たつと、午後 □ 時 □ 分になります。
- (7) 午前 7:20 から 1 時間 22 分たつと、午前 □ 時 □ 分になります。
- (8) 午後 9:15 から 2 時間 5 分たつと、午前 □ 時 □ 分になります。
- (9) 午後 6:48 から 1 時間 23 分たつと、午後 □ 時 □ 分になります。
- (10) 午前 10:20 から 2 時間 45 分たつと、午 □ □ 時 □ 分になります。
- (11) 午前 8:45 から 3 時間 50 分たつと、午 □ □ 時 □ 分になります。
- (12) 午前 8:52 から 5 時間 12 分たつと、午 □ □ 時 □ 分になります。



4 次の問いに答えなさい( 分前の時刻は? )。

- (1) 午前 7:45 の 20 分前は, 午前  時  分です。
- (2) 午前 9:30 の 15 分前は, 午前  時  分です。
- (3) 午後 7:40 の 13 分前は, 午後  時  分です。
- (4) 午前 6:10 の 50 分前は, 午前  時  分です。
- (5) 午前 8:20 の 32 分前は, 午前  時  分です。
- (6) 午後 10:37 の 41 分前は, 午後  時  分です。
- (7) 午前 3:10 の 1 時間 35 分前は, 午前  時  分です。
- (8) 午後 3:40 の 2 時間 55 分前は, 午後  時  分です。
- (9) 午後 10:05 の 3 時間 27 分前は, 午後  時  分です。

5 次の二つの時刻の差は, 何時間何分ですか。

- |  |  |
|--|--|
| (1) 午前 5:00 から午前 11:00<br><input type="text"/> 時間 <input type="text"/> 分 | (2) 午前 6:00 から午前 10:00<br><input type="text"/> 時間 <input type="text"/> 分 |
| (3) 午後 7:00 から午後 11:45<br><input type="text"/> 時間 <input type="text"/> 分 | (4) 午後 8:40 から午後 11:15<br><input type="text"/> 時間 <input type="text"/> 分 |
| (5) 午前 8:25 から午前 10:35<br><input type="text"/> 時間 <input type="text"/> 分 | (6) 午前 4:55 から午前 6:25<br><input type="text"/> 時間 <input type="text"/> 分  |
| (7) 午前 7:45 から午前 8:55<br><input type="text"/> 時間 <input type="text"/> 分  | (8) 午後 7:54 から午後 9:45<br><input type="text"/> 時間 <input type="text"/> 分  |
| (9) 午前 9:22 から午後 2:31<br><input type="text"/> 時間 <input type="text"/> 分  | (10) 午前 7:56 から午後 3:48<br><input type="text"/> 時間 <input type="text"/> 分 |