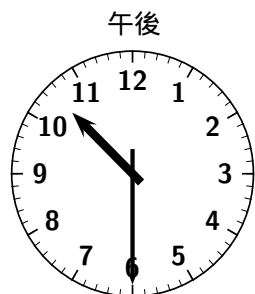


氏名 \_\_\_\_\_

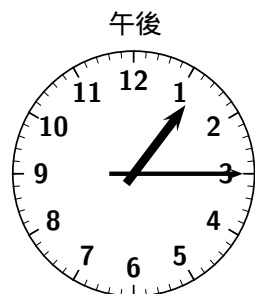
1 次の時計の時刻を 24 時間表示で答えなさい。



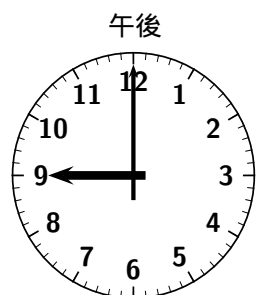
時  分



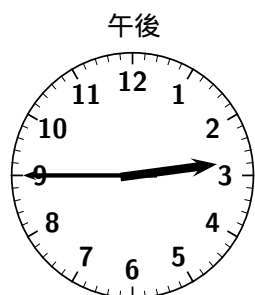
時  分



時  分



時  分



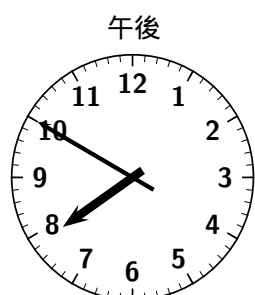
時  分



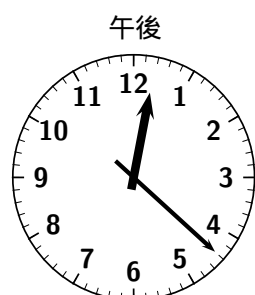
時  分



時  分



時  分



時  分



時  分



時  分



時  分



時  分



時  分



時  分

