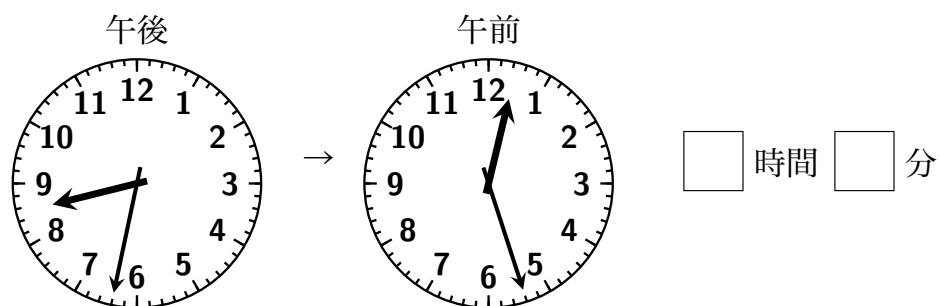
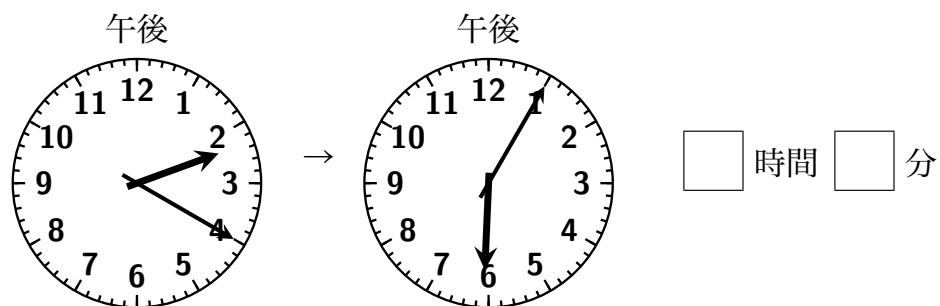
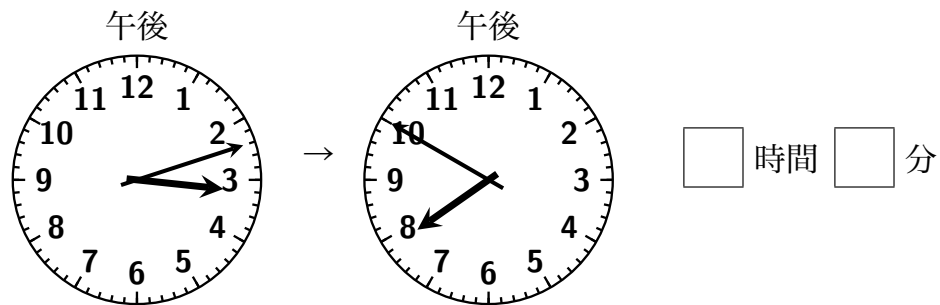
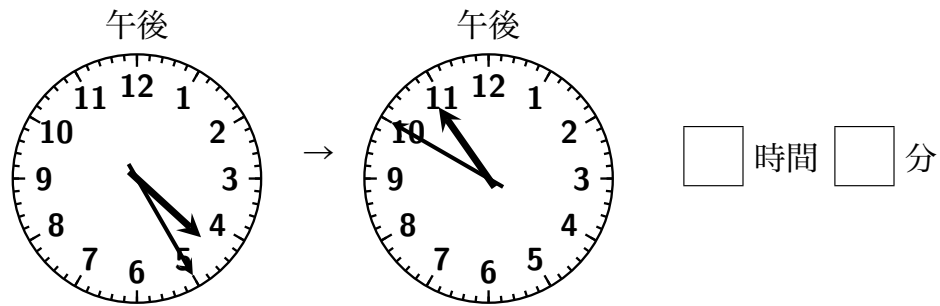


氏名 _____

1 左の時刻から何時間何分経つと右の時刻になりますか。



2 次の問いに答えなさい (○分たった時刻は?)。

- (1) 午後 1:30 から 18 分たつと、午後 □ 時 □ 分になります。
- (2) 午後 9:31 から 28 分たつと、午後 □ 時 □ 分になります。
- (3) 午後 5:17 から 26 分たつと、午後 □ 時 □ 分になります。
- (4) 午後 2:40 から 35 分たつと、午後 □ 時 □ 分になります。
- (5) 午後 4:30 から 48 分たつと、午後 □ 時 □ 分になります。
- (6) 午後 7:53 から 1 時間 15 分たつと、午後 □ 時 □ 分になります。

3 次の問いに答えなさい (○分前の時刻は?)。

- (1) 午後 3:45 の 25 分前は、午後 □ 時 □ 分です。
- (2) 午後 6:30 の 18 分前は、午後 □ 時 □ 分です。
- (3) 午後 11:54 の 37 分前は、午後 □ 時 □ 分です。
- (4) 午後 9:19 の 27 分前は、午後 □ 時 □ 分です。
- (5) 午後 4:32 の 47 分前は、午後 □ 時 □ 分です。
- (6) 午後 10:24 の 1 時間 45 分前は、午後 □ 時 □ 分です。

4 次の問いに答えなさい (○分たった時刻は?)。

(1) 午後 6:23 から 45 分たつと、午後 時 分になります。

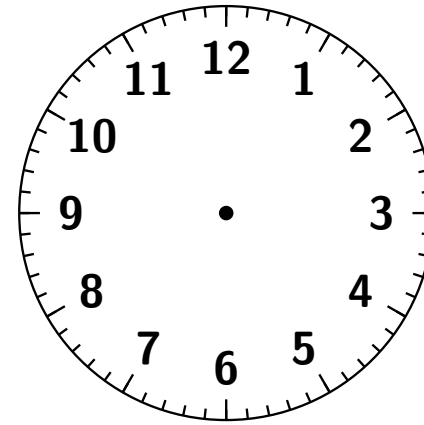
(2) 午後 10:53 から 48 分たつと、午後 時 分になります。

(3) 午後 3:48 から 55 分たつと、午後 時 分になります。

(4) 午後 2:36 から 1 時間 36 分たつと、午後 時 分になります。

(5) 午後 5:28 から 3 時間 55 分たつと、午後 時 分になります。

(6) 午後 7:41 から 2 時間 36 分たつと、午後 時 分になります。



5 次の問いに答えなさい (○分前の時刻は?)。

(1) 午後 4:12 の 35 分前は、午後 時 分です。

(2) 午後 2:45 の 54 分前は、午後 時 分です。

(3) 午後 11:36 の 48 分前は、午後 時 分です。

(4) 午後 6:32 の 3 時間 45 分前は、午後 時 分です。

(5) 午後 7:15 の 2 時間 55 分前は、午後 時 分です。

(6) 午後 5:48 の 2 時間 49 分前は、午後 時 分です。