

氏名 _____

■ 方べきの定理

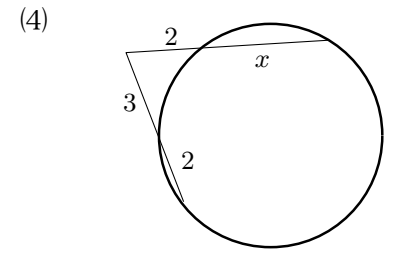
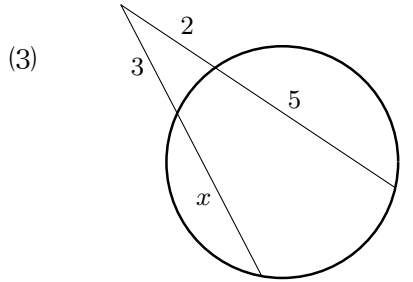
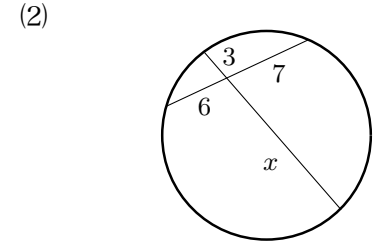
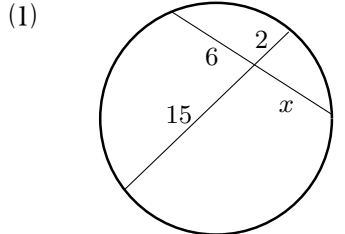
円 O の 2 つの弦 AB, CD が交わる点, または, それらの延長が交わる点を P とすれば, 次のことが成り立つ。

$$PA \times PB = PC \times PD$$

円の外部の点 P から円に引いた接線の接点を T とする。P を通ってこの円と 2 点 A, B で交わる直線を引くと次のことが成り立つ。

$$PA \times PB = PT^2$$

1 次の図において, x の長さを求めよ



2 次の図において, x の長さを求めよ

