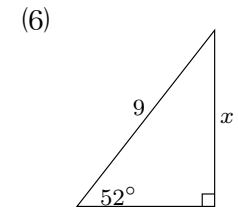
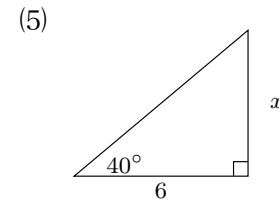
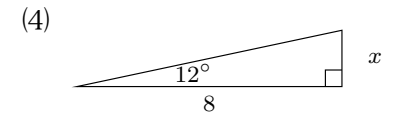
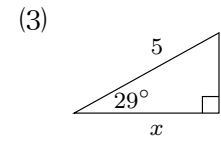


氏名 _____

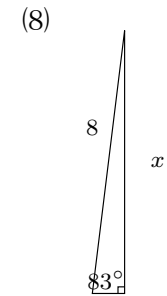
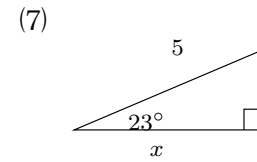
■ サイン コサイン タンジェント
sin, cos, tan

● $\sin A = \frac{\text{縦}}{\text{斜め}}$ ● $\cos A = \frac{\text{横}}{\text{斜め}}$ ● $\tan A = \frac{\text{縦}}{\text{横}}$



1 三角比の表を使って次の値を調べなさい。

- | | |
|---------------------|---------------------|
| (1) $\sin 4^\circ$ | (2) $\cos 56^\circ$ |
| (3) $\sin 23^\circ$ | (4) $\tan 88^\circ$ |
| (5) $\sin 11^\circ$ | (6) $\cos 39^\circ$ |
| (7) $\tan 73^\circ$ | (8) $\cos 69^\circ$ |



2 次の直角三角形において、 x の値をそれぞれ計算しなさい。

