

氏名 _____

■ 正弦定理 (正弦とは sin のことです)

三角比を使うと『1辺と2つの角度』がわかったときの、三角形の辺の長さを求めることができる。

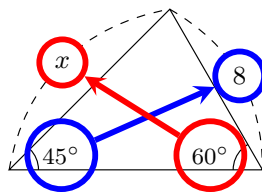
$$\frac{\text{角度の向かい側にある辺の長さ}}{\sin \text{角度}} = \frac{\text{角度の向かい側にある辺の長さ}}{\sin \text{角度}}$$

例題 右の三角形で、 x の長さを求めなさい。

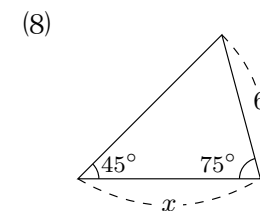
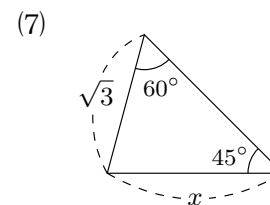
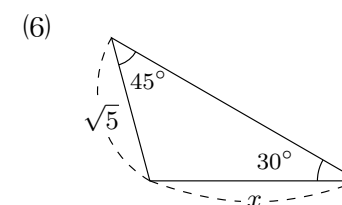
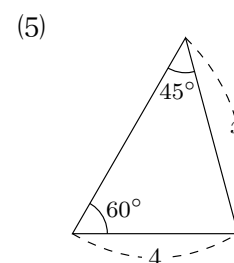
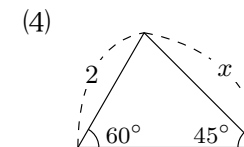
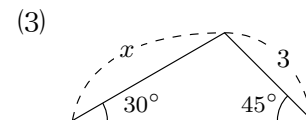
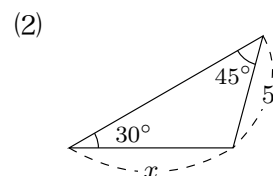
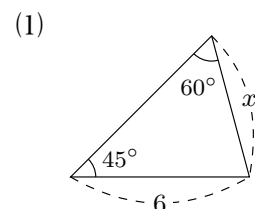
解 正弦定理より $\frac{x}{\sin 60^\circ} = \frac{8}{\sin 45^\circ}$ となる。

よって

$$\begin{aligned} \sin 60^\circ \times \frac{x}{\sin 60^\circ} &= \frac{8}{\sin 45^\circ} \times \sin 60^\circ \\ x &= \frac{8}{\sin 45^\circ} \times \sin 60^\circ \\ &= 8 \div \sin 45^\circ \times \sin 60^\circ \\ &= 8 \div \frac{1}{\sqrt{2}} \times \frac{\sqrt{3}}{2} \\ &= 8 \times \frac{\sqrt{2}}{1} \times \frac{\sqrt{3}}{2} \\ &= 4\cancel{8} \times \frac{\sqrt{2}}{1} \times \frac{\sqrt{3}}{\cancel{2}1} \\ &= 4 \times \sqrt{2} \times \sqrt{3} \\ &= 4\sqrt{6} \quad \text{答} \end{aligned}$$



1 次の三角形の辺の長さ x を求めなさい。



● 三角形のすべての角をたすと 180° です

氏名 _____

■ 正弦定理 (正弦とは sin のことです)

三角比を使うと『1辺と2つの角度』がわかったときの、三角形の辺の長さを求めることができる。

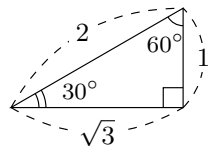
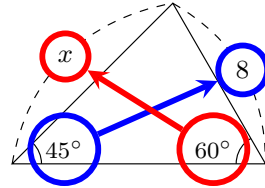
$$\frac{\text{角度の向かい側にある辺の長さ}}{\sin \text{角度}} = \frac{\text{角度の向かい側にある辺の長さ}}{\sin \text{角度}}$$

例題 右の三角形で、 x の長さを求めなさい。

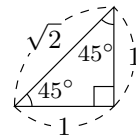
解 正弦定理より $\frac{x}{\sin 60^\circ} = \frac{8}{\sin 45^\circ}$ となる。

よって

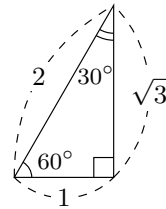
$$\begin{aligned} \sin 60^\circ \times \frac{x}{\sin 60^\circ} &= \frac{8}{\sin 45^\circ} \times \sin 60^\circ \\ x &= \frac{8}{\sin 45^\circ} \times \sin 60^\circ \\ &= 8 \div \sin 45^\circ \times \sin 60^\circ \\ &= 8 \div \frac{1}{\sqrt{2}} \times \frac{\sqrt{3}}{2} \\ &= 8 \times \frac{\sqrt{2}}{1} \times \frac{\sqrt{3}}{2} \\ &= 4\cancel{8} \times \frac{\sqrt{2}}{1} \times \frac{\sqrt{3}}{\cancel{2}1} \\ &= 4 \times \sqrt{2} \times \sqrt{3} \\ &= 4\sqrt{6} \quad \text{答} \end{aligned}$$



$\sin 30^\circ =$



$\sin 45^\circ =$



$\sin 60^\circ =$

1 次の三角形の辺の長さ x を求めなさい。

