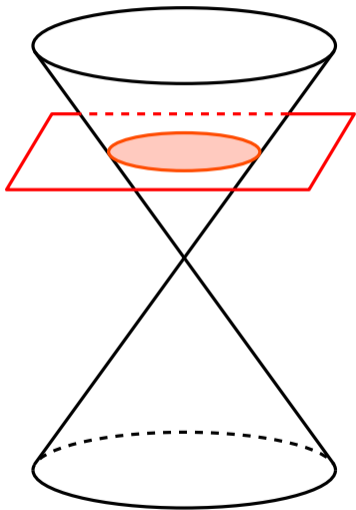

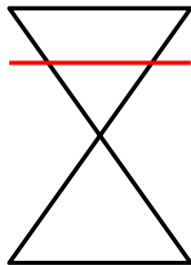


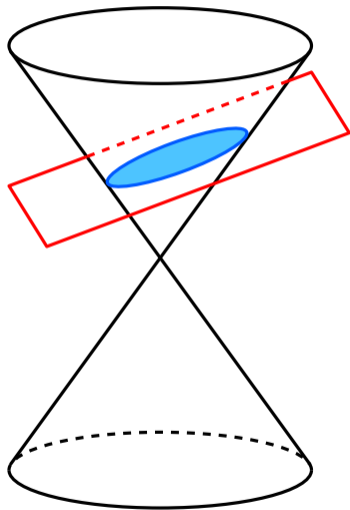
# 円錐曲線（その1）



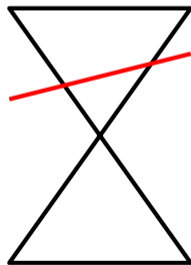
円錐の底面と平行な平面で切断すると**円**になる。



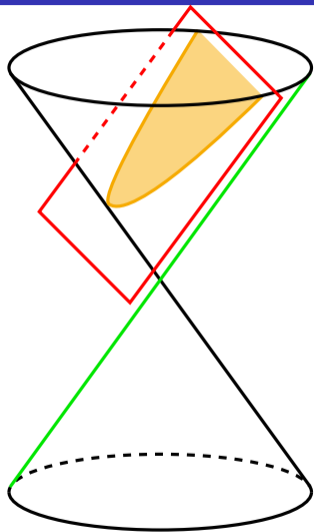
## 円錐曲線 (その 2)



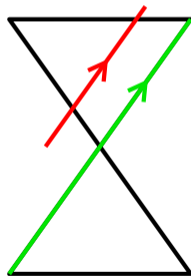
円錐の底面と平行でない平面で切断すると**楕円**になる。



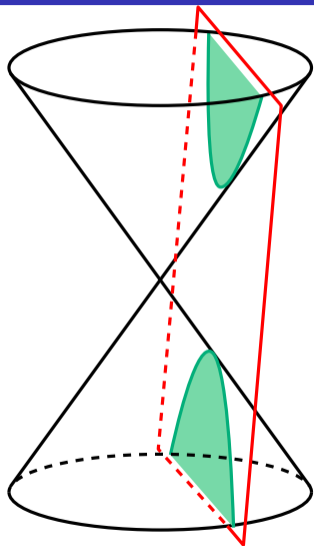
# 円錐曲線 (その 3)




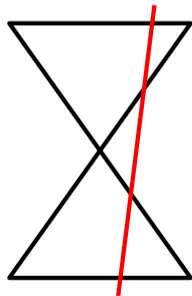
円錐の**母線**と平行な平面で切断すると**放物線**になる。



## 円錐曲線（その4）



円錐の母線と平行でない平面で切断すると**双曲線**になる。



動画のほうが分かりやすいよね…

## 円錐曲線 (YouTube)