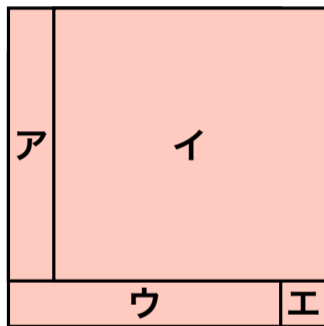


重ねた順番は？

同じ大きさの正方形を
4枚重ねたら、左のよ
うになりました。

重ねた順を下からいお
う。



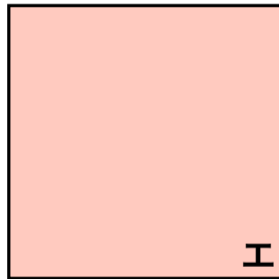
重ねた順番は？

同じ大きさの正方形を
4枚重ねたら、左のよ
うになりました。

重ねた順を下からいお
う。

答

エ



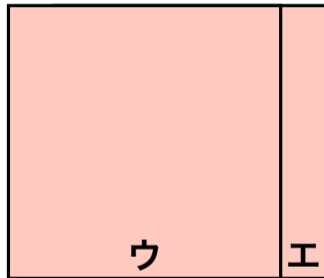
重ねた順番は？

同じ大きさの正方形を
4枚重ねたら、左のよ
うになりました。

重ねた順を下からいお
う。

答

ウ
エ



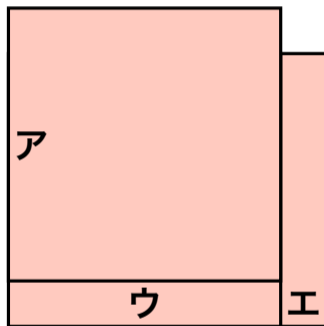
重ねた順番は？

同じ大きさの正方形を
4枚重ねたら、左のよ
うになりました。

重ねた順を下からいお
う。

答

ア
ウ
エ

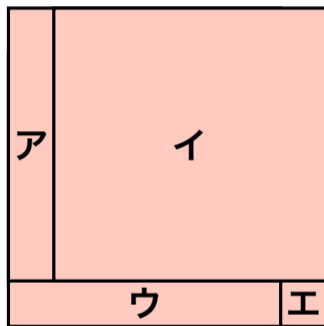


重ねた順番は？

同じ大きさの正方形を
4枚重ねたら、左のよ
うになりました。

重ねた順を下からいお
う。

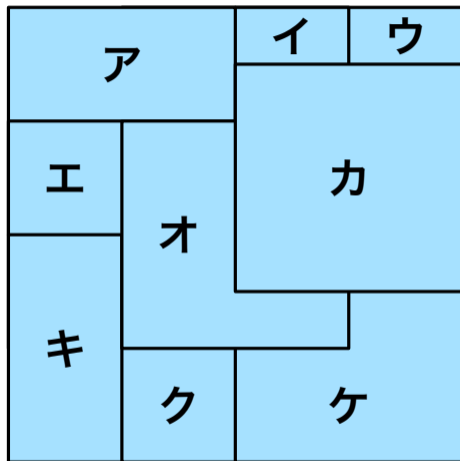
答
イ
ア
ウ
エ



重ねた順番は？

同じ大きさの正方形を
9枚重ねたら、左のよ
うになりました。

重ねた順を下からいお
う。

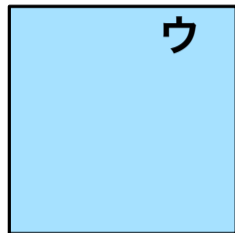


重ねた順番は？

同じ大きさの正方形を
9枚重ねたら、左のよ
うになりました。

重ねた順を下からいお
う。

答



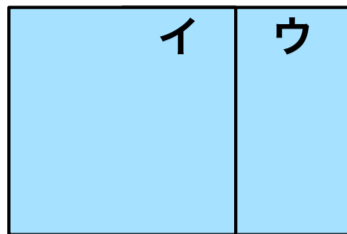
ウ

重ねた順番は？

同じ大きさの正方形を
9枚重ねたら、左のよ
うになりました。

重ねた順を下からいお
う。

答



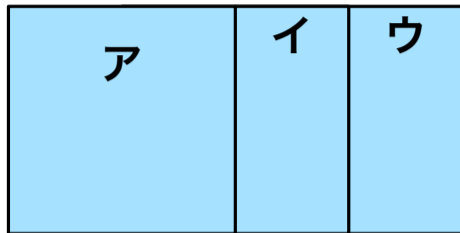
イ
ウ

重ねた順番は？

同じ大きさの正方形を
9枚重ねたら、左のよ
うになりました。

重ねた順を下からいお
う。

答



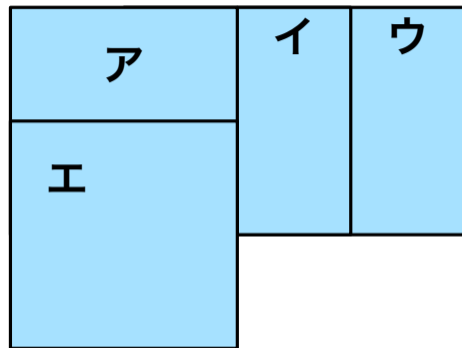
ア
イ
ウ

重ねた順番は？

同じ大きさの正方形を
9枚重ねたら、左のよ
うになりました。

重ねた順を下からいお
う。

答



エ
ア
イ
ウ

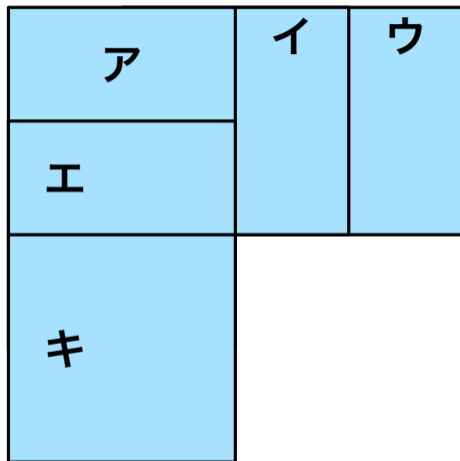
重ねた順番は？

同じ大きさの正方形を
9枚重ねたら、左のよ
うになりました。

重ねた順を下からいお
う。

答

キ
エ
ア
イ
ウ



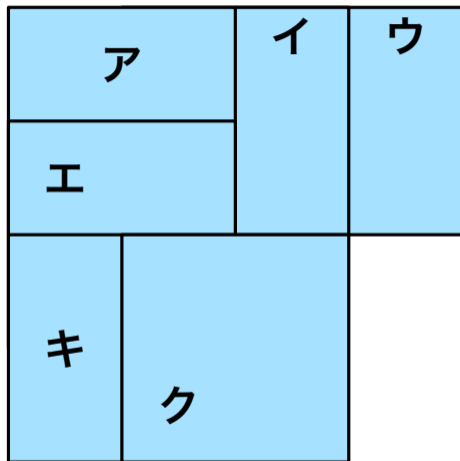
重ねた順番は？

同じ大きさの正方形を
9枚重ねたら、左のよ
うになりました。

重ねた順を下からいお
う。

答

ク
キ
エ
ア
イ
ウ



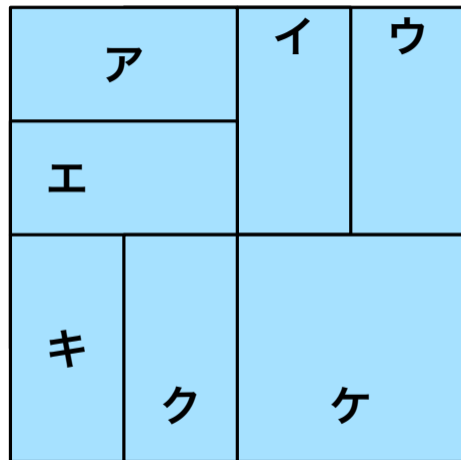
重ねた順番は？

同じ大きさの正方形を
9枚重ねたら、左のよ
うになりました。

重ねた順を下からいお
う。

答

ケ
ク
キ
エ
ア
イ
ウ



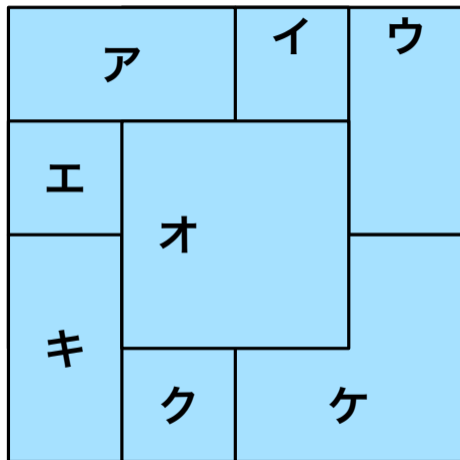
重ねた順番は？

同じ大きさの正方形を
9枚重ねたら、左のよ
うになりました。

重ねた順を下からいお
う。

答

オ
ケ
ク
キ
エ
ア
イ
ウ

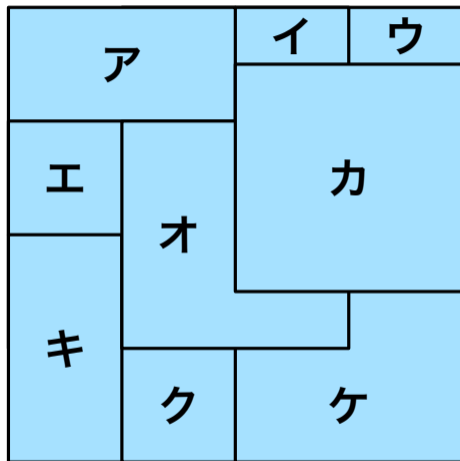


重ねた順番は？

同じ大きさの正方形を
9枚重ねたら、左のよ
うになりました。

重ねた順を下からいお
う。

【答】カオケクキエアイウ



出典

新しい算数6 数学へジャンプ！

2東書 算数601

東京書籍 238 ページ (小学校教科書)

参考 URL

【既存の教科でプログラミング授業】小学6年生
算数「重ねた順番は？」 [web](#)