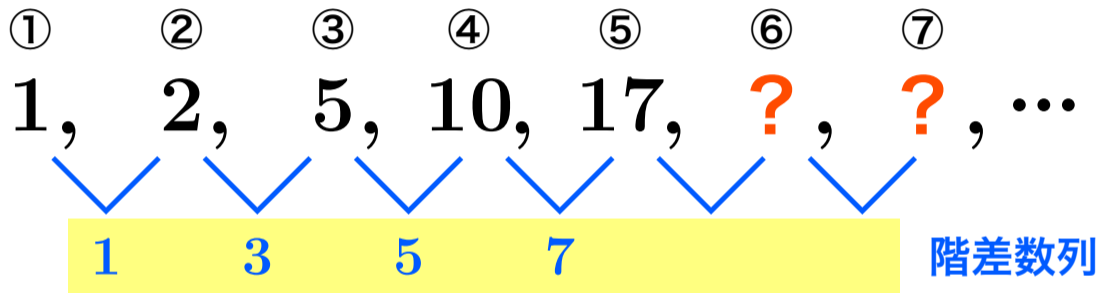


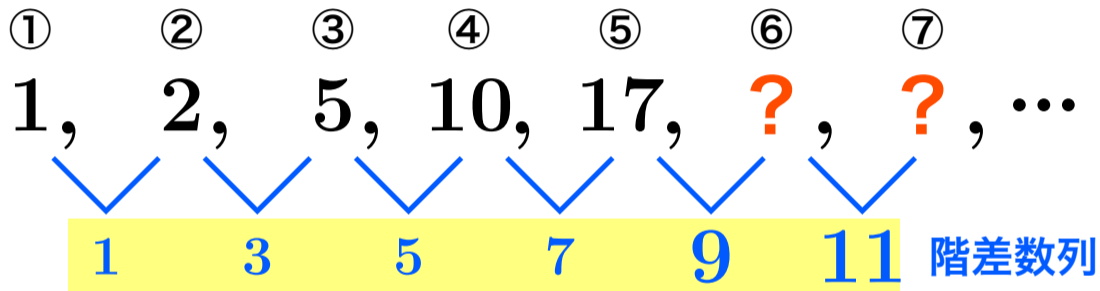
階差数列を使って第 6 項、第 7 項を求めなさい

① ② ③ ④ ⑤ ⑥ ⑦
1, 2, 5, 10, 17, ?, ?, ...

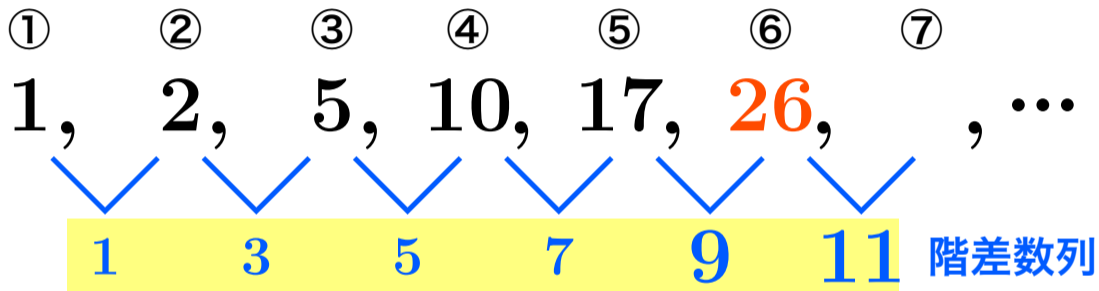
階差数列を使って第 6 項、第 7 項を求めなさい



階差数列を使って第 6 項、第 7 項を求めなさい



階差数列を使って第 6 項、第 7 項を求めなさい



階差数列を使って第 6 項、第 7 項を求めなさい

