

数直線を使って考えてみよう

1 mのねだんが80円のリボンがあります。

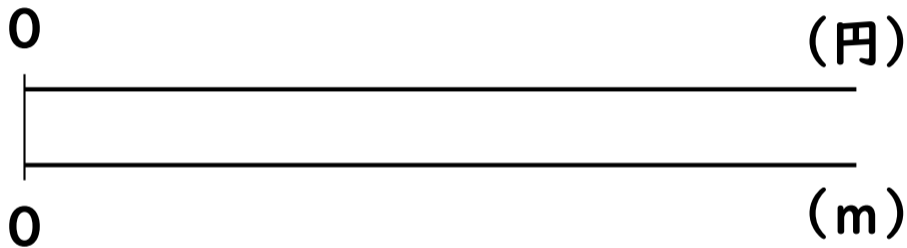
このリボンを9 m買うと、代金はいくらになりますか。

1 mで80円

9 mの代金を求める

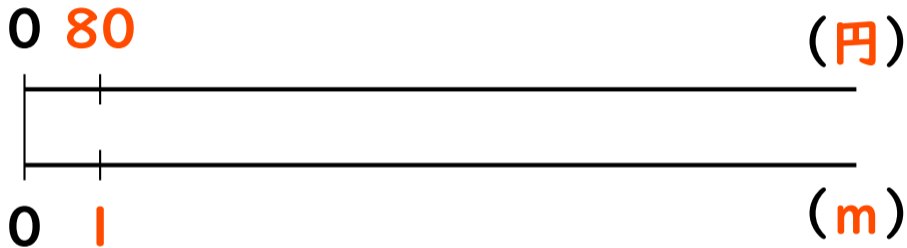
1 mで80円

9 mの代金を求める



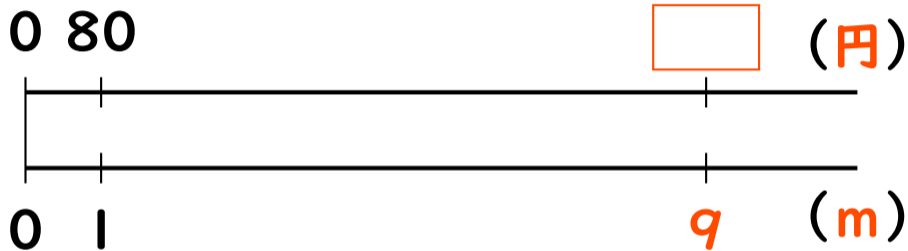
1 mで80円

9 mの代金を求める



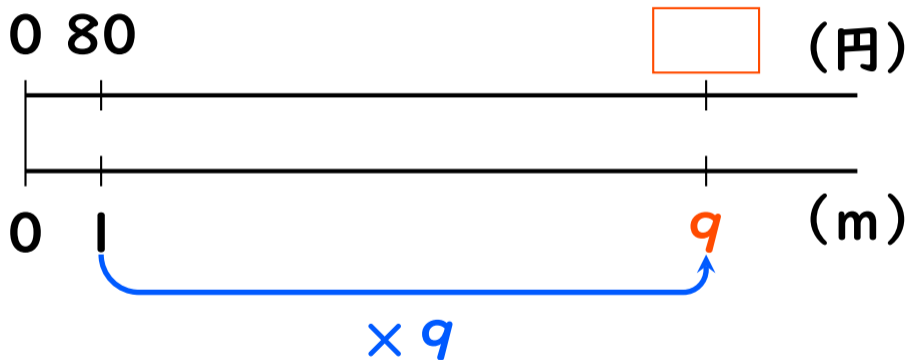
1 mで80円

9 mの代金を求める



1 mで80円


9 mの代金を求める



1 mで80円

9 mの代金を求める

$\times 9$



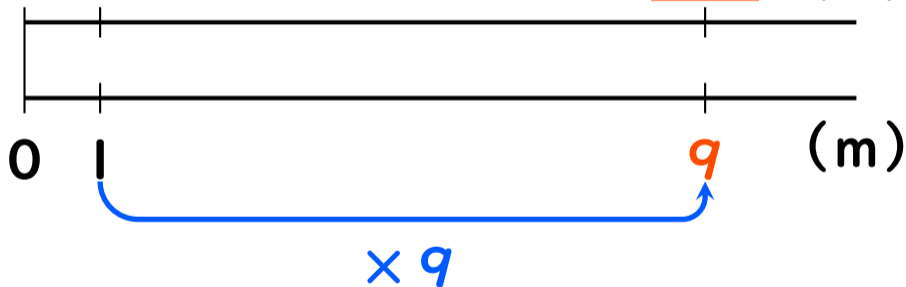
$\times 9$

1 mで80円

9 mの代金を求める

$\times 9$

0 80 $80 \times 9 = \square$ (円)



1 mで80円

9 mの代金を求める

$\times 9$

0 80 $80 \times 9 = 720$ (円)

