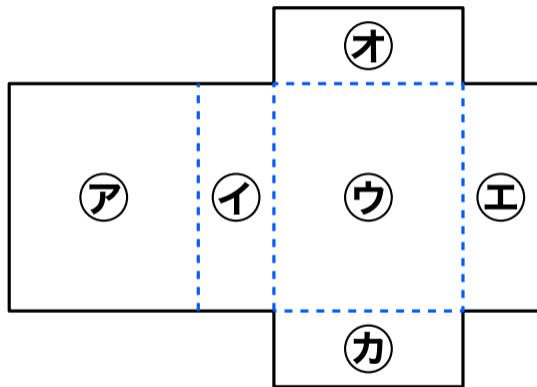


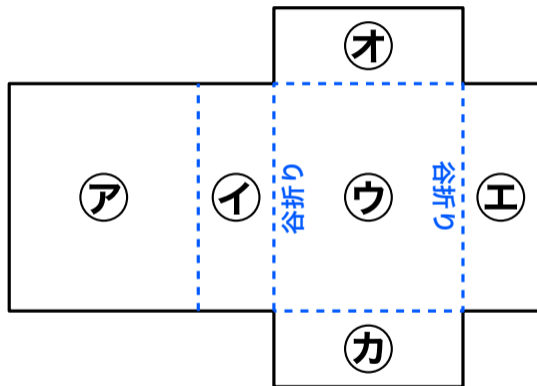
展開図を組み立てて直方体をつくる

- ▶ ㊦の面と平行になる面はどれ
- ▶ ㊦の面と垂直になる面はどれ



展開図を組み立てて直方体をつくる

- ▶ ㊦の面と平行になる面はどれ
- ▶ ㊦の面と垂直になる面はどれ



の場合は（山折りでも答えは同じ）

ネットで調べていたら…

現在では、印刷業界では

谷折りは破線

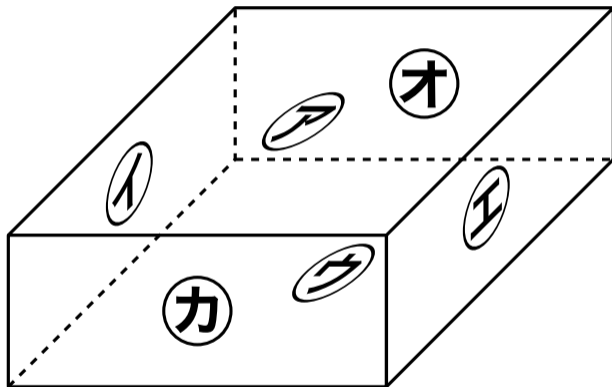


山折りは一点鎖線



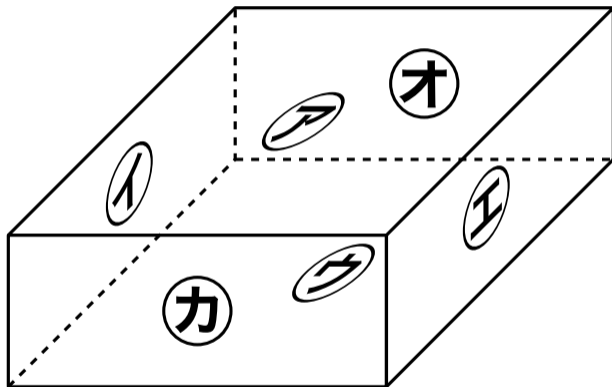
が一般的らしいです（以前は逆だった時期もある
ようです）

㊦の面と平行になる面はどれ

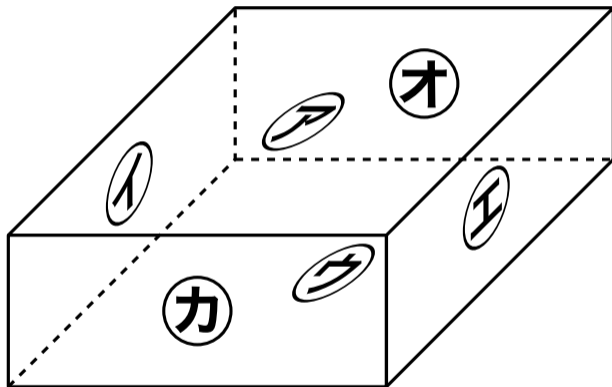


アの面と平行になる面はどれ

答 **ウ**の面



①の面と垂直になる面はどれ



①の面と垂直になる面はどれ

答 ①, ②, ③, ④の面

