

# 数学 長さを測る # 1 (mm)

年 組 号 氏名 \_\_\_\_\_

1 長さを測りなさい。

(1) \_\_\_\_\_ mm

(2) \_\_\_\_\_ mm

(3) \_\_\_\_\_ mm

(4) \_\_\_\_\_ mm

(5) \_\_\_\_\_ mm

(6) \_\_\_\_\_ mm

(7) \_\_\_\_\_ mm

(8) \_\_\_\_\_ mm

(9) \_\_\_\_\_ mm

(10) \_\_\_\_\_ mm

(11) \_\_\_\_\_ mm

(12) \_\_\_\_\_ mm

# 数学 長さを測る # 2 ( mm )

年 組 号 氏名 \_\_\_\_\_

1 長さを測りなさい。

(1) \_\_\_\_\_ mm  
\_\_\_\_\_

(2) \_\_\_\_\_ mm  
\_\_\_\_\_

(3) \_\_\_\_\_ mm  
\_\_\_\_\_

(4) \_\_\_\_\_ mm  
\_\_\_\_\_

(5) \_\_\_\_\_ mm  
\_\_\_\_\_

(6) \_\_\_\_\_ mm  
\_\_\_\_\_

(7) \_\_\_\_\_ mm  
\_\_\_\_\_

(8) \_\_\_\_\_ mm  
\_\_\_\_\_

(9) \_\_\_\_\_ mm  
\_\_\_\_\_

(10) \_\_\_\_\_ mm  
\_\_\_\_\_

(11) \_\_\_\_\_ mm  
\_\_\_\_\_

(12) \_\_\_\_\_ mm  
\_\_\_\_\_

数学 長さを測る # 3 (cm)

年 組 号 氏名

1 長さを測りなさい。

(1) \_\_\_\_\_ cm

(2) \_\_\_\_\_ cm

(3) \_\_\_\_\_ cm

(4) \_\_\_\_\_ cm

(5) \_\_\_\_\_ cm

(6) \_\_\_\_\_ cm

(7) \_\_\_\_\_ cm

(8) \_\_\_\_\_ cm

(9) \_\_\_\_\_ cm

(10) \_\_\_\_\_ cm

(11) \_\_\_\_\_ cm

(12) \_\_\_\_\_ cm



# 数学 長さを測る # 5 (mm)

年 組 号 氏名

---

1 長さを測りなさい。

A ·

(1) AB mm

---

(2) CE mm

---

E ·

(3) BG mm

---

(4) DF mm

---

B ·

(5) BE mm

---

(6) AE mm

---

(7) CG mm

---

G ·

(8) DE mm

---

(9) GF mm

---

C ·

(10) GE mm

---

D ·

(11) DG mm

---

F ·

(12) AD mm

---

# 数学 長さを測る # 6 (cm)

年 組 号 氏名

---

1 長さを測りなさい。

A ·

(1) AB cm

---

(2) CE cm

---

(3) BG cm

---

C ·

(4) DF cm

---

G ·

(5) BE cm

---

E ·

(6) AE cm

---

(7) CG cm

---

(8) DE cm

---

B ·

(9) GF cm

---

D ·

(10) GE cm

---

(11) DG cm

---

F ·

(12) AD cm

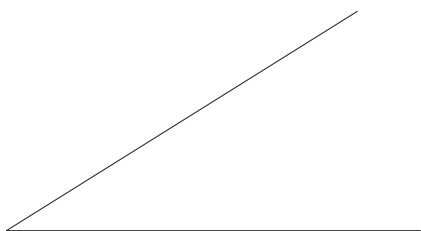
---

# 数学 角度を測る # 1

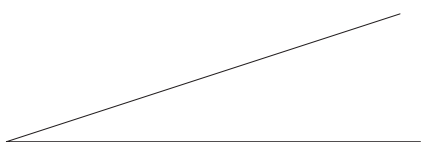
年 組 号 氏名 \_\_\_\_\_

1 次の角度を測りなさい。


(1) \_\_\_\_\_ 度




(2) \_\_\_\_\_ 度



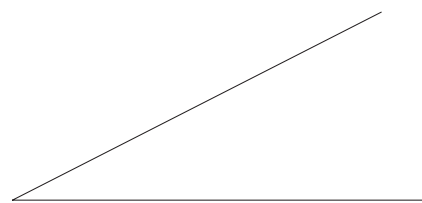
(3) \_\_\_\_\_ 度




(4) \_\_\_\_\_ 度



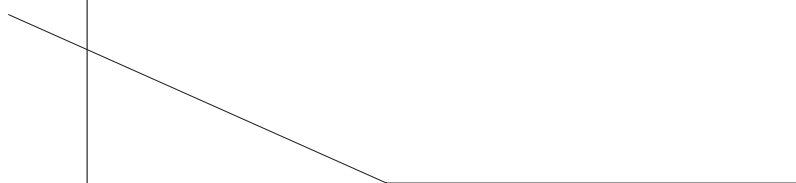
(5) \_\_\_\_\_ 度




(6) \_\_\_\_\_ 度



(7) \_\_\_\_\_ 度



(8) \_\_\_\_\_ 度



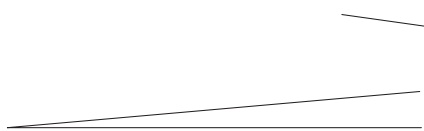


# 数学 角度を測る # 2


年 組 号 氏名 \_\_\_\_\_

1 次の角度を測りなさい。

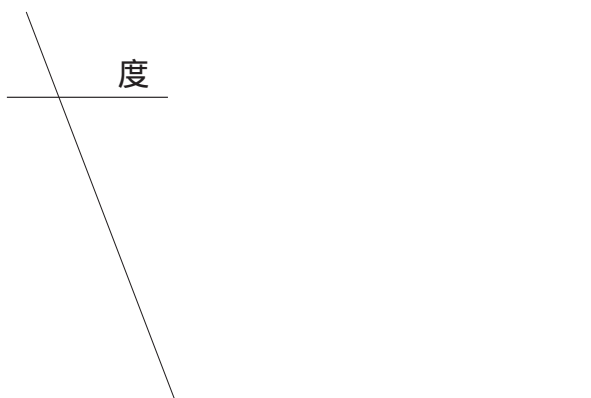
(1) \_\_\_\_\_ 度



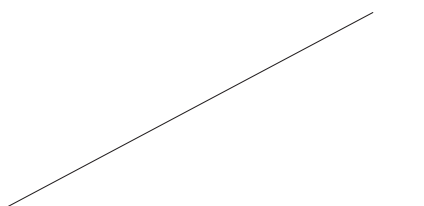
(2) \_\_\_\_\_ 度



(3) \_\_\_\_\_ 度




(4) \_\_\_\_\_ 度




(5) \_\_\_\_\_ 度




(6) \_\_\_\_\_ 度



(7) \_\_\_\_\_ 度



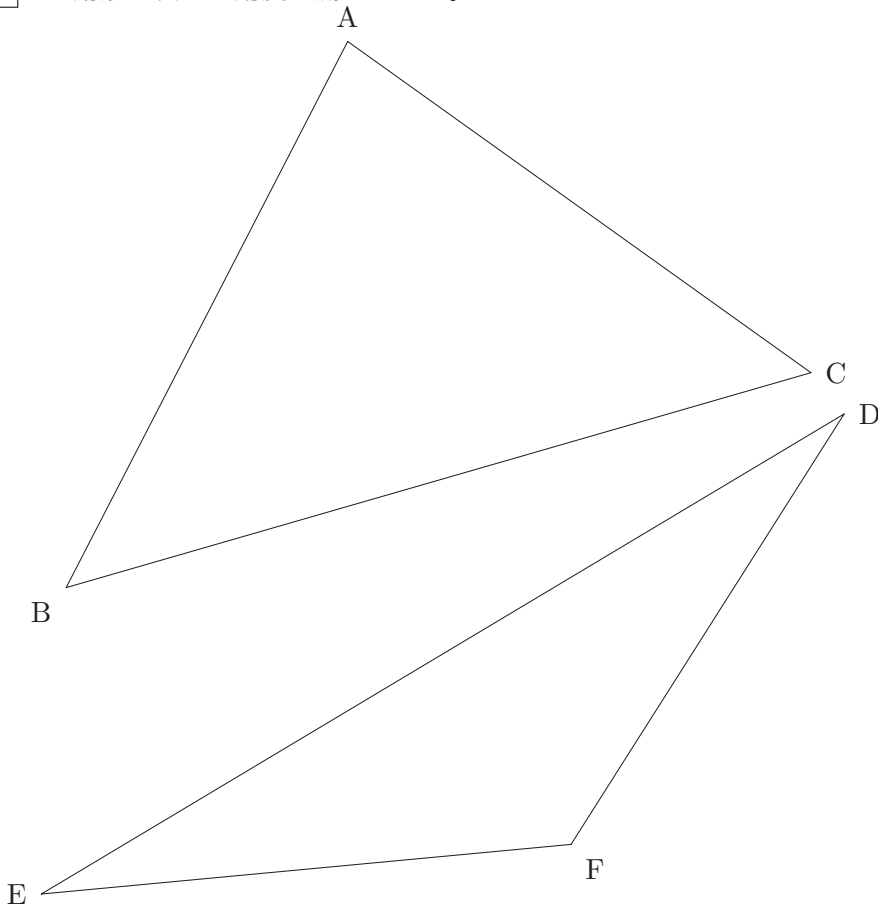
(8) \_\_\_\_\_ 度



# 数学 長さと角度を測る # 1

年 組 号 氏名 \_\_\_\_\_

1 三角形の長さや角度を測りなさい。



(1) 長さ AB                      cm

(2) 長さ AC                      cm

(3)  $\angle A$                       度

(4)  $\angle B$                       度

(5)  $\angle C$                       度

(6)  $\angle A + \angle B + \angle C$                       度

(7) 長さ DE                      cm

(8) 長さ EF                      cm

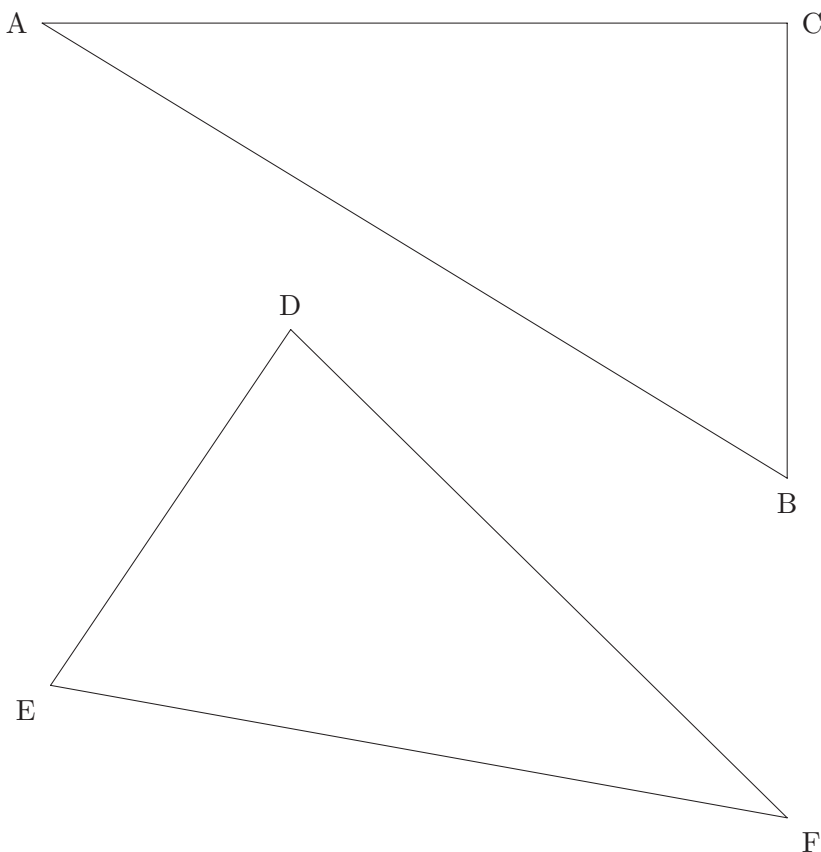
(9)  $\angle D$                       度

(10)  $\angle E$                       度

(11)  $\angle F$                       度

(12)  $\angle D + \angle E + \angle F$                       度

2 三角形の長さや角度を測りなさい。



(1) 長さ AB                      cm

(2) 長さ BC                      cm

(3)  $\angle A$                       度

(4)  $\angle B$                       度

(5)  $\angle C$                       度

(6)  $\angle A + \angle B + \angle C$                       度

(7) 長さ DF                      cm

(8) 長さ EF                      cm

(9)  $\angle D$                       度

(10)  $\angle E$                       度

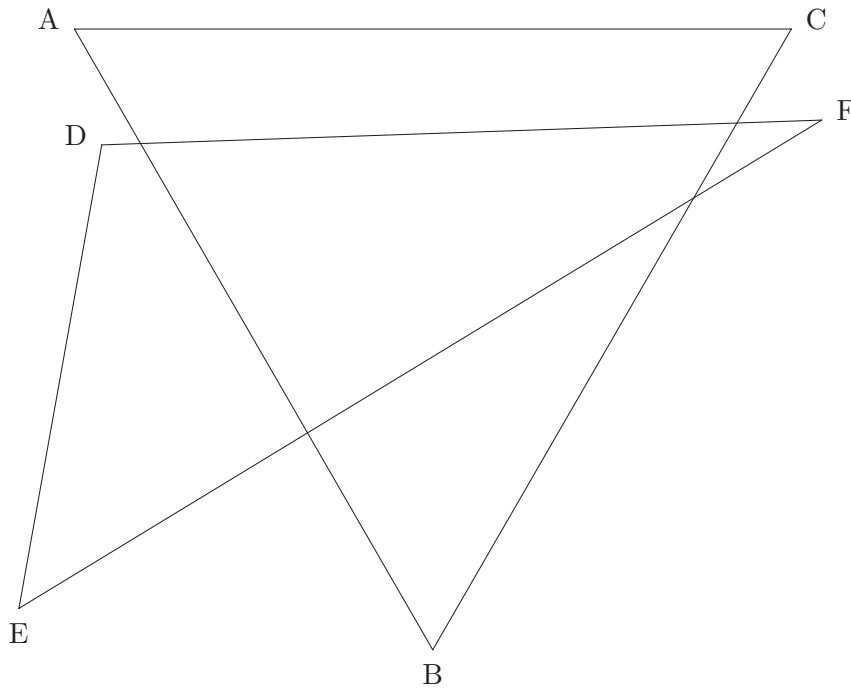
(11)  $\angle F$                       度

(12)  $\angle D + \angle E + \angle F$                       度

# 数学 長さと角度を測る # 2

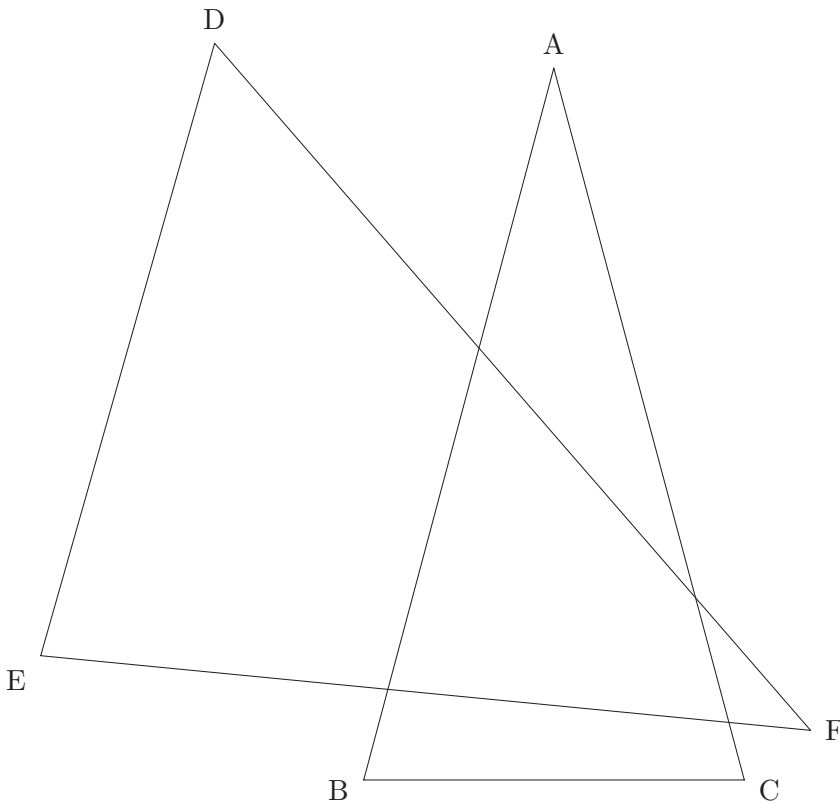
年 組 号 氏名 \_\_\_\_\_

1 三角形の長さや角度を測りなさい。



- (1) 長さ AB            cm
- (2) 長さ AC            cm
- (3)  $\angle A$             度
- (4)  $\angle B$             度
- (5)  $\angle C$             度
- (6)  $\angle A + \angle B + \angle C$             度
- (7) 長さ DE            cm
- (8) 長さ EF            cm
- (9)  $\angle D$             度
- (10)  $\angle E$             度
- (11)  $\angle F$             度
- (12)  $\angle D + \angle E + \angle F$             度

2 三角形の長さや角度を測りなさい。

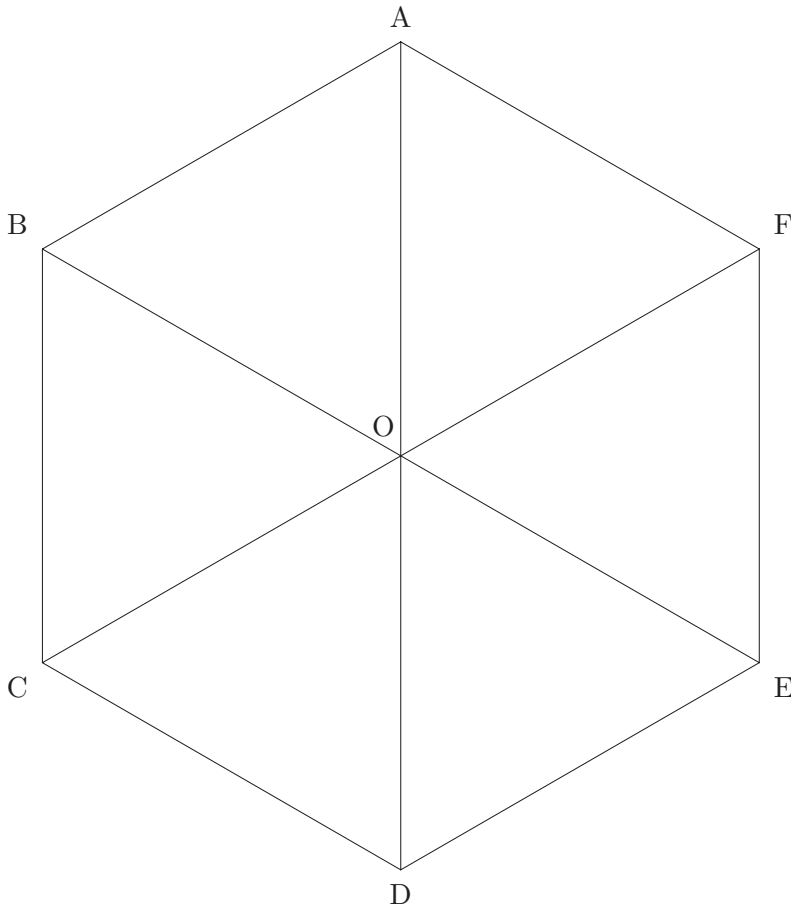


- (1) 長さ AB            cm
- (2) 長さ BC            cm
- (3)  $\angle A$             度
- (4)  $\angle B$             度
- (5)  $\angle C$             度
- (6)  $\angle A + \angle B + \angle C$             度
- (7) 長さ DF            cm
- (8) 長さ EF            cm
- (9)  $\angle D$             度
- (10)  $\angle E$             度
- (11)  $\angle F$             度
- (12)  $\angle D + \angle E + \angle F$             度

# 数学 正多角形の長さや角度を測る # 1

年 組 号 氏名 \_\_\_\_\_

1 正六角形の長さや角度を測りなさい。



- (1) 長さ AB            cm

---

- (2) 長さ OA            cm

---

- (3) 長さ OB            cm

---

- (4) 長さ CD            cm

---

- (5)  $\angle AOB$             度

---

- (6)  $\angle OAB$             度

---

- (7)  $\angle OBA$             度

---

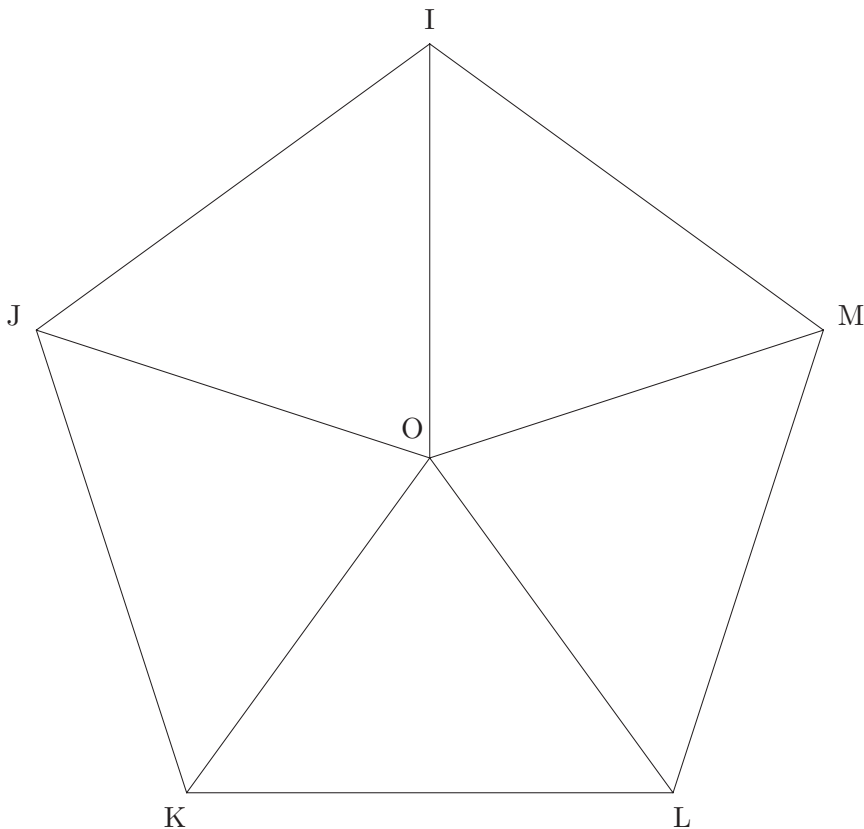
- (8)  $\angle COD$             度

---

- (9)  $\angle ABC$             度

---

2 正五角形の長さや角度を測りなさい。



- (1) 長さ IJ            cm

---

- (2) 長さ IO            cm

---

- (3) 長さ JO            cm

---

- (4) 長さ KL            cm

---

- (5)  $\angle IOJ$             度

---

- (6)  $\angle OIJ$             度

---

- (7)  $\angle OJI$             度

---

- (8)  $\angle LOM$             度

---

- (9)  $\angle KLM$             度

---